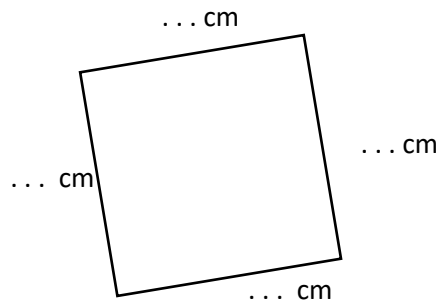


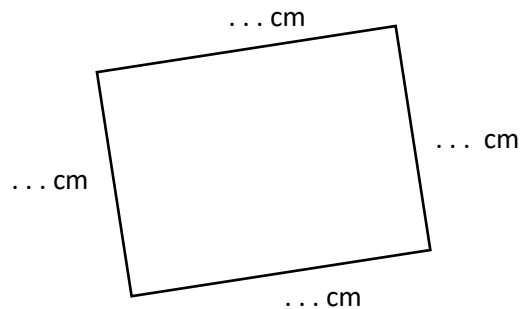
Quadrilatères

Séance 48

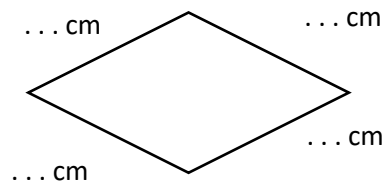
→ **Complète** les mesures et **coche** le nom de la figure.
Ajoute les codes pour les angles et les longueurs.



- ☐ carré
- ☐ rectangle
- ☐ losange



- ☐ carré
- ☐ rectangle
- ☐ losange

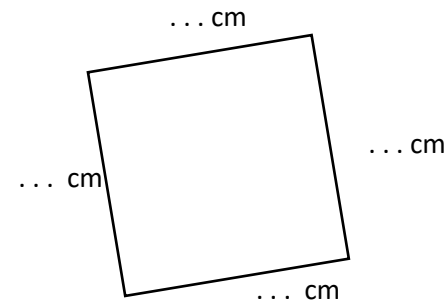


- ☐ carré
- ☐ rectangle
- ☐ losange

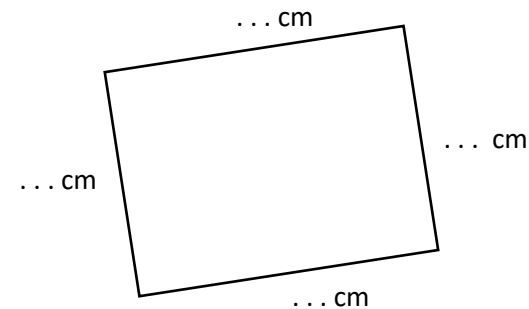
Quadrilatères

Séance 48

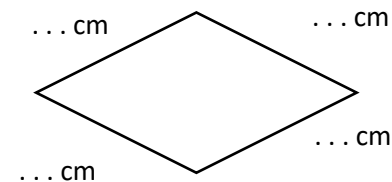
→ **Complète** les mesures et **coche** le nom de la figure.
Ajoute les codes pour les angles et les longueurs.



- ☐ carré
- ☐ rectangle
- ☐ losange



- ☐ carré
- ☐ rectangle
- ☐ losange



- ☐ carré
- ☐ rectangle
- ☐ losange

